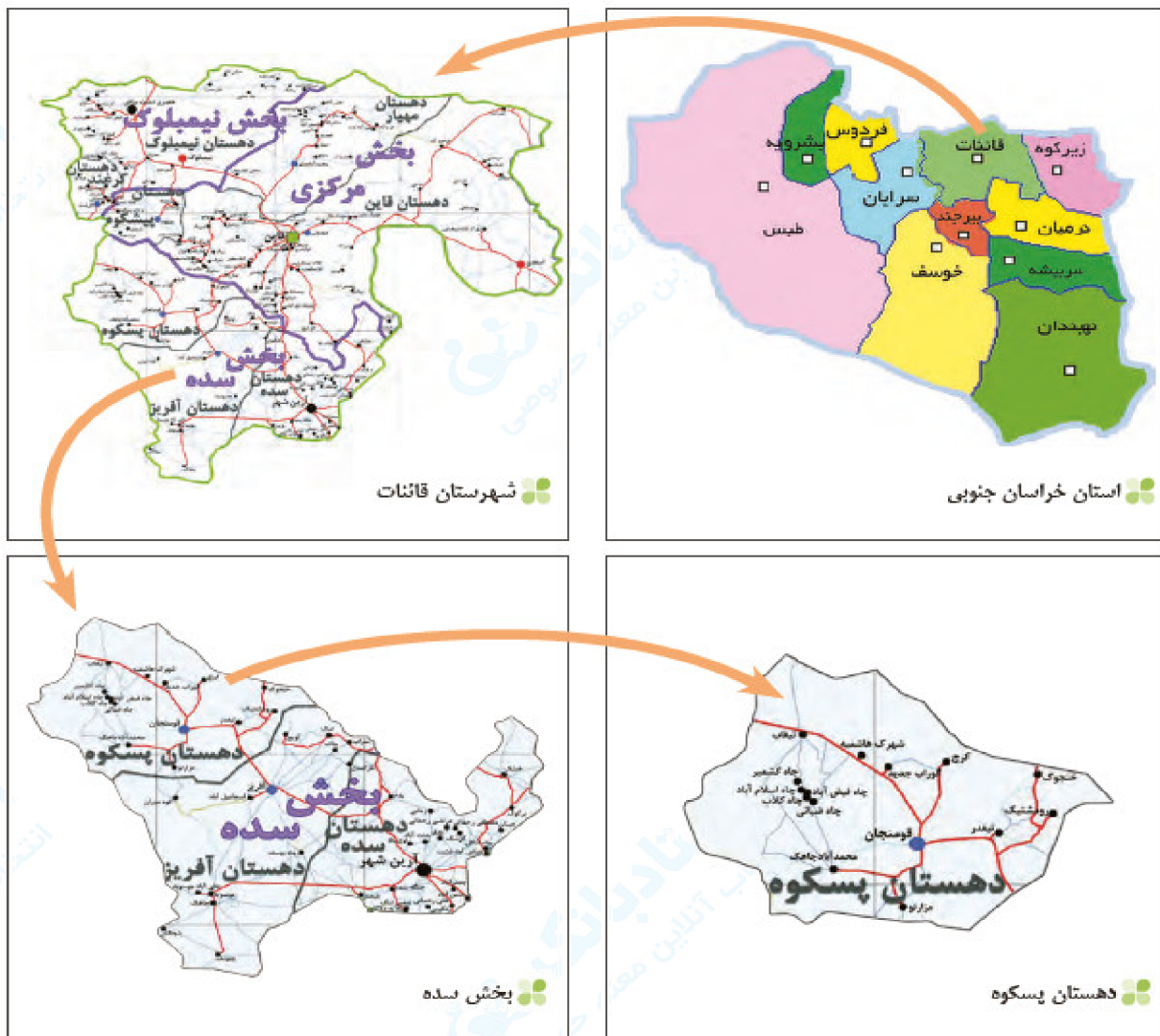


- ۱-۱- به طور گروهی، نقشه‌ی استان خود را ترسیم، و شهرستان‌های آنرا مشخص کنید.
- ۲- با مراجعه به بخش تقسیمات کشوری، وضعیت محل زندگی خود را از نظر قرارگیری در شهرستان، بخش، روستا و شهر، مشخص، و مانند تصاویر زیر برای هر کدام، نقشه‌ای تهیه کنید.
- ۳- با مراجعه به سایت اینترنتی استانداری یا اداره‌ی سیاسی محل زندگی خود، جدیدترین تغییرات تقسیمات کشوری استان خود را تهیه، و به کلاس گزارش کنید.

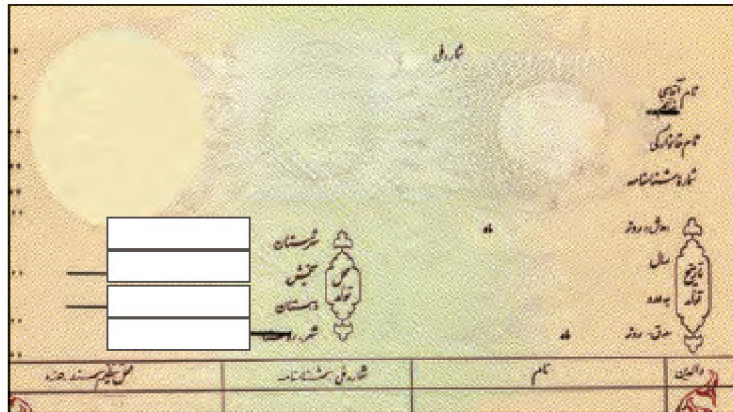
## تقسیمات کشوری از دیدگاه نقشه



« پاسخ »

پاسخ به عهده‌ی دانش آموز

۲- صفحه‌ی خالی شناسنامه را با مشخصات خود پر کنید و نام هرکدام از تقسیمات ذکر شده را با توجه به صفحه‌ی اول شناسنامه خودتان تکمیل نمایید.



« پاسخ »

پاسخ به عهده‌ی دانش‌آموز

۳- دهستان را تعریف کنید.

« پاسخ »

کوچک‌ترین واحد تقسیمات کشوری با محدوده‌ی جغرافیایی معین ماست که از به هم پیوستن چند روستا، مکان و مزرعه‌ی هم‌جوار تشکیل می‌شود و از لحاظ محیط طبیعی، فرهنگی، اقتصادی، اجتماعی همگن است و امکان خدمات‌رسانی و برنامه‌ریزی در سامانه و شبکه‌ای واحد را فراهم می‌سازد. دهستان توسط ده‌دار اداره می‌شود.

۴- بخش را تعریف کنید.

« پاسخ »

واحدی از تقسیمات کشوری یا محدوده‌ی جغرافیایی معین است که از به هم پیوستن چند دهستان هم‌جوار، شامل چندین مزرعه، مکان روستا و احیاناً شهر تشکیل شده که از نظر عوامل طبیعی و اوضاع اجتماعی، فرهنگی، اقتصادی و سیاسی، واحد همگنی را به وجود آورده است. بخش توسط بخش‌دار اداره می‌شود.

۵- شهرستان را تعریف کنید.

« پاسخ »

واحدی از تقسیمات کشوری با محدوده‌ی جغرافیایی معین که از به هم پیوستن چند بخش هم‌جوار تشکیل شده که از نظر عوامل طبیعی و اوضاع اجتماعی، اقتصادی، سیاسی و فرهنگی، واحد متناسب و همگنی را به وجود آورده است. شهرستان توسط فرماندار اداره می‌شود.

۶- استان را تعریف کنید.

« پاسخ »

واحدی از تقسیمات کشوری است که با محدوده‌ی جغرافیایی معین از به هم پیوستن چند شهرستان هم‌جوار با توجه به موقعیت‌های سیاسی، اجتماعی، فرهنگی، اقتصادی و طبیعی تشکیل می‌شود. استان توسط استاندار اداره می‌شود.

۷- به چه دلیل، مناسب‌تر است که کشور را به واحدهای کوچک‌تر تقسیم کنند؟

« پاسخ »

اداره‌ی بهتر و به منظور عرضه‌ی خدمات مناسب‌تر و تأمین نیازهای مردم

۸- تعداد ایالت‌ها و ولایت‌ها در زمان قاجاریه چه تعداد بود؟

« پاسخ »

ایالت‌ها: ۱) آذربایجان (۲) خراسان و سیستان (۳) فارس و بندر (۴) کرمان و بلوچستان  
ولایت‌ها: ۲۳

۹- خلیفه‌ی مسلمین برای هر شهر ..... تعیین می‌کرد.

« پاسخ »

خلیفه‌ی مسلمین برای هر شهر حاکم تعیین می‌کرد.

۱۰- در زمان صفویه، افشاریه و زندیه، عناصر اصلی تقسیمات کشوری را به ترتیب بگویید.

« پاسخ »

ایالت، ولایت، بلوک و قصبه

۱۱- به ترتیب (از راست به چپ) کشور ایران در دوره‌ی سلوکیان به چند «بخش» و قلمرو جغرافیایی در دوره‌ی عباسیان

به چند «ایالت» در تقسیمات سیاسی تقسیم شد؟

۴ - ۲۴ (۴)                      ۲۴ - ۳۲ (۳)                      ۳۱ - ۷۲ (۲)                      ۲۴ - ۴ (۱)

« پاسخ »

گزینه ۲ پاسخ صحیح است. در دوران سلوکیان کشور به ۷۲ بخش و در دوره‌ی عباسیان قلمرو جغرافیایی به ۳۱ ایالت تقسیم شد.

۱۲- کدام گزینه در تعریف «دهستان» درست است؟

- ۱) واحدی از تقسیمات کشوری با محدوده‌ی جغرافیایی معین است که از به هم پیوستن چند شهرستان هم‌جوار تشکیل می‌شود.
- ۲) واحدی از تقسیمات کشوری با محدوده‌ی جغرافیایی معین است که از به هم پیوستن چند بخش هم‌جوار تشکیل می‌شود.
- ۳) واحدی از تقسیمات کشوری با محدوده‌ی جغرافیایی معین است که از به هم پیوستن چند مزرعه‌ی هم‌جوار تشکیل می‌شود.
- ۴) کوچک‌ترین واحد تقسیمات کشوری با محدوده‌ی جغرافیایی معین است که از به هم پیوستن چند روستا، مکان و مزرعه‌ی هم‌جوار تشکیل می‌شود.

« پاسخ »

گزینه ۴ پاسخ صحیح است. دهستان کوچک‌ترین واحد تقسیمات کشوری با محدوده‌ی جغرافیایی معین است که از به هم پیوستن چند روستا، مکان و مزرعه‌ی هم‌جوار تشکیل می‌شود.

۱۳- کدام گزینه عناصر اصلی تقسیمات کشوری در دوره‌ی صفویه، افشاریه، زندیه و قاجاریه را به درستی نشان می‌دهد؟

- ۱) ایالت - استان - شهرستان - دهستان
- ۲) ایالت - ولایت - بلوک - قصبه
- ۳) ایالت - حوزه - شهرستان - دهستان
- ۴) سرزمین - حوزه - قسوغ - رستاک

« پاسخ »

گزینه ۲ پاسخ صحیح است. در دوره‌ی صفویه، افشاریه، زندیه و قاجار عناصر اصلی تقسیمات کشوری به ترتیب عبارت بودن از: ایالت، ولایت، بلوک و قصبه.

۱۴- در سابقه تقسیمات کشوری ایران، «تعیین حاکم و سپردن تمام کارها به حاکمان شهرها» و «تقسیم کشور به ایالات

متعدد» به ترتیب مربوط به چه زمانی است؟

- ۱) پس از ورود اسلام - پس از ورود اسلام
- ۲) ساسانیان - پس از حمله مغول
- ۳) قاجاریه - پس از ورود اسلام
- ۴) پس از ورود اسلام - پس از حمله مغول

« پاسخ »

گزینه ۴ پاسخ صحیح است. «پس از ورود اسلام به ایران»، خلیفه مسلمین برای هر شهر، حاکمی تعیین کرد و تمام کارها به حاکمان سپرده شد و هر کدام از آنها بر ولایتی حکمرانی می‌کردند. «بعد از حمله مغول» از تقسیم‌بندی ایالتی استفاده و ایران به ایالات متعددی تقسیم شد.

۱۵- کدام گزینه در ارتباط با سابقه‌ی تقسیمات کشوری در ایران نادرست است؟

- ۱) در سال ۱۳۱۶، ایران به ده استان و ۴۷ شهرستان تقسیم شد.
- ۲) در دوره‌ی قاجار، ایران دارای چهار ایالت آذربایجان، خراسان و سیستان، فارس و بندر، کرمان و بلوچستان بود.
- ۳) در زمان صفویه، افشاریه و زندیه تقسیمات کشوری به ترتیب ایالت، ولایت، بلوک و قصبه بود.
- ۴) در زمان ساسانیان کشور به سرزمین (ایالت)، حوزه (استان)، قسوق (شهرستان) و رستاک (دهستان) تقسیم شده بود.

« پاسخ »

گزینه ۱ پاسخ صحیح است. در سال ۱۳۱۶، ایران به ده استان و ۴۷ شهرستان تقسیم شد.

۱۶- کدام عبارت، با تقسیمات داخلی کشور ما مغایرت دارد؟

- ۱) هر دهستان از چند روستا تشکیل شده است و توسط ده‌دار اداره می‌شود.
- ۲) هر شهرستان از چند شهر تشکیل شده است و توسط شهردار اداره می‌شود.
- ۳) هر بخش از چند دهستان تشکیل شده است و توسط بخش‌دار اداره می‌شود.
- ۴) هر استان از چند شهرستان تشکیل شده است و توسط استاندار اداره می‌شود.

« پاسخ »

گزینه ۲ پاسخ صحیح است. شهرستان توسط «فرماندار» اداره می‌شود.

۱۷- در دوره ساسانیان به ترتیب بزرگترین و کوچکترین واحدهای تقسیمات کشوری چه نام داشت؟  
 ۱) خوره و رستاک      ۲) ایالت و تسوج      ۳) خوره و تسوج      ۴) ایالت و رستاک

« پاسخ »

گزینه ۴ پاسخ صحیح است. در دوره ساسانیان به ترتیب از بزرگ به کوچک، کشور به سرزمین (ایالت)، حوزه (استان)، تسوگ یا تسوج (شهرستان) و رستاک (دهستان) تقسیم شده بود.

۱۸- کدام گزینه یکی از ایالات ایران در دوره قاجاریه و تعداد ولایت در این دوره را مشخص می‌کند؟

- ۱) آذربایجان - ۲۳      ۲) فارس و بندر - ۳۲      ۳) اصفهان - ۲۳      ۴) ایلام و خوزستان - ۳۲

« پاسخ »

گزینه ۱ پاسخ صحیح است. ایران در زمان قاجاریه دارای چهار ایالت آذربایجان، خراسان و سیستان، فارس و بندر، و کرمان و بلوچستان و ۲۳ ولایت بود.



۱۹- کدام گزینه ایالت‌های ایران در «دوره قاجار» را به درستی نشان می‌دهد؟

- ۱) آذربایجان و تهران - اصفهان و فارس - بلوچستان و بندر - خراسان و سیستان
- ۲) سیستان و بلوچستان - کرمان و فارس - خراسان و اصفهان - آذربایجان
- ۳) آذربایجان - سیستان و خراسان - کرمان و بلوچستان - فارس و بندر
- ۴) خراسان - سیستان و بلوچستان - کرمان و فارس - آذربایجان

« پاسخ »

گزینه ۳ پاسخ صحیح است. ایران در زمان قاجاریه دارای چهار ایالت ۱- آذربایجان ۲- خراسان و سیستان ۳- فارس و بندر ۴- کرمان و بلوچستان بود.

۲۰- کدام مورد، شرح درستی از تاریخچه تقسیمات کشوری در ایران را ارائه می‌دهد؟

- ۱) واحد سیستان و بلوچستان یکی از ۴ ایالت ایران در دوره قاجاریه محسوب می‌شد.
- ۲) عناصر اصلی تقسیمات کشوری در دوره زندیه را ایالت، ولایت، بلوک و قصبه تشکیل می‌دهد.
- ۳) واحد فارسی و بنادر یکی از ۴ ولایت ایران در دوره قاجاریه به‌شمار می‌رفت.
- ۴) در دوره افشاریه قلمرو جغرافیایی ایران به ایالت، ولایت، رستاک و قصبه تقسیم می‌شد.

« پاسخ »

گزینه ۲ پاسخ صحیح است. در زمان صفویه، افشاریه و زندیه، عناصر اصلی تقسیمات کشوری به‌ترتیب عبارت بود از: ایالت، ولایت، بلوک و قصبه در گزینه ۱ خراسان و سیستان در کنار کرمان و بلوچستان از ایالات دوران قاجار هستند و در گزینه ۳ واحد فارس و بنادر از ۴ ایالت زمان قاجار بود.

۲۱- در تقسیمات کشوری ساسانیان، کدام مورد معادل شهرستان امروزی ایران است؟

- ۱) حوزه (۲) رستاک (۳) قسوگ (۴) ساتراپ

« پاسخ »

گزینه ۳ پاسخ صحیح است. ایران در زمان داریوش اول هخامنشی برای اداره‌ی بهتر کشور، آن‌را به قسمت‌هایی به نام ساتراپ تقسیم کرده بود تقسیمات سرزمینی را به ایرانیان نسبت می‌دهند. در زمان ساسانیان، کشور به سرزمین (ایالت)، حوزه (استان)، قسوگ (شهرستان) و رستاک (دهستان) تقسیم شده بود.

۲۲- در کدام دوره «بلوک» و «قصبه» عناصر اصلی تقسیمات کشوری بودند؟

- ۱) صفویه و افشاریه (۲) تیموریان و سلجوقیان (۳) قاجاریه و زندیه (۴) ساسانیان و سلوکیان

« پاسخ »

گزینه ۱ پاسخ صحیح است. در زمان صفویه، افشاریه و زندیه، عناصر اصلی تقسیمات کشوری به‌ترتیب عبارت بود از ایالت، ولایت، بلوک و قصبه.

۲۳- تقسیمات سیاسی کشوری در ایران متناسب با چه معیارهایی تغییر می‌یابند؟  
 (۱) اقتصادی - سیاسی (۲) تجانس - وحدت (۳) انسانی - طبیعی (۴) موقعیت - زمان

« پاسخ »

گزینه ۴ پاسخ صحیح است. تقسیمات سیاسی کشوری در ایران، متناسب با موقعیت و زمان تغییر می‌یابد.

۲۴- در ارتباط با سابقه تقسیمات کشوری در ایران، ترتیب کدام گزینه نادرست است؟

- (۱) دوره حکومت زندیه: قصبه ← بلوک ← ولایت ← ایالت
- (۲) دوره حکومت ساسانیان: رستاک ← تسوگ ← خوره ← سرزمین
- (۳) نظام اداری کنونی: دهستان ← بخش ← شهرستان ← استان
- (۴) قانون تقسیمات کشوری ۱۳۱۶: دهستان ← قصبه ← بخش ← شهرستان ← استان

« پاسخ »

گزینه ۴ پاسخ صحیح است. در سال ۱۳۱۶ با تصویب قانون تقسیمات کشوری، ایران به ده استان و ۴۹ شهرستان تقسیم شد. در این قانون، هر استان به چند شهرستان و هر شهرستان به چند بخش و هر بخش به چند دهستان و هر دهستان به چند قصبه تقسیم شد.

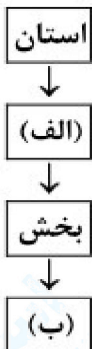
۲۵- با توجه به شکل روبه‌رو که تقسیم‌بندی کشور ایران را در حال حاضر نشان می‌دهد، قسمت‌های «الف» و «ب» معادل کدام تقسیم‌بندی‌ها در دوره‌ی

ساسانیان است؟

- (۱) ایالت - خوره
- (۲) خوره - تسوگ
- (۳) تسوگ - رستاک
- (۴) ایالت - ولایت

« پاسخ »

گزینه ۳ پاسخ صحیح است. تقسیم‌بندی دوره‌ی ساسانیان:  
 سرزمین (ایالت) - خوره (استان) - تسوگ (شهرستان) - رستاک (دهستان)



۲۶- کدام یک از موارد زیر در رابطه با تاریخچه‌ی تقسیمات کشوری در ایران به ترتیب درست (ص) و یا نادرست (غ) است؟

- الف) سابقه‌ی تقسیمات کشوری در ایران به زمان داریوش اول برمی‌گردد که کشور را به ساتراپ تقسیم کرده بود.  
 ب) در دوره‌ی زندیه عناصر اصلی تقسیمات کشوری عبارت بودند از ایالت، ولایت، بلوک و قصبه.  
 ج) ایران در زمان قاجاریه دارای چهار ایالت از جمله آذربایجان، کرمان و همدان بود.  
 ۱) ص - ص - غ      ۲) غ - غ - ص      ۳) ص - غ - ص      ۴) غ - ص - غ

« پاسخ »

گزینه ۱ پاسخ صحیح است.

ج) ایران در زمان قاجاریه دارای چهار ایالت: ۱) آذربایجان ۲) خراسان و سیستان ۳) فارس و بندر ۴) کرمان و بلوچستان و ۲۳ ولایت بود.

۲۷- کدام گزینه مربوط به ایالت‌های ایران در زمان «قاجار» است؟

- الف) کرمان - سیستان - آذربایجان  
 ب) آذربایجان - فارس و بندر  
 ج) خراسان و بلوچستان - فارس و مرکزی  
 د) کرمان و بلوچستان - خراسان و سیستان  
 ۱) الف - ج      ۲) الف - د      ۳) ب - د      ۴) ب - ج

« پاسخ »

گزینه ۳ پاسخ صحیح است. ایران در زمان قاجاریه دارای چهار ایالت بود:  
 ۱- آذربایجان ۲- خراسان و سیستان ۳- فارس و بندر ۴- کرمان و بلوچستان

۲۸- به ترتیب «دهستان» و «شهرستان» تابع کدام تشکیلات نظام اداری است؟

- ۱) شهرستان - پایتخت      ۲) بخش - استان      ۳) شهرستان - استان      ۴) بخش - پایتخت

« پاسخ »

گزینه ۲ پاسخ صحیح است. دهستان تابع بخش است و شهرستان تابع استان می‌باشد.



۲۹- شکل زیر مربوط به کدام عنصر تقسیمات کشوری در ایران است؟



- (۱) دهستان
- (۲) شهرستان
- (۳) بخش
- (۴) استان

« پاسخ »

گزینه ۲ پاسخ صحیح است.



شهرستان قائنات

۳۰- مطابق قانون تقسیمات کشوری سال ۱۳۱۶ هر شهرستان به چند ..... و هر دهستان به چند ..... تقسیم شده است.  
(۱) بخش - قصبه (۲) قصبه - بخش (۳) دهستان - شهرستان (۴) استان - شهرستان

« پاسخ »

گزینه ۱ پاسخ صحیح است. در سال ۱۳۱۶ با تصویب قانون تقسیمات کشوری، ایران به ده استان و ۴۹ شهرستان تقسیم شد. در این قانون، هر استان به چند شهرستان و هر شهرستان به چند بخش و هر بخش به چند دهستان و هر دهستان به چند قصبه تقسیم شد.

۳۱- کدام گزینه عناصر اصلی تقسیمات سیاسی کشور ایران را در زمان «صفویه»، «افشاریه» و «زندیه» به درستی نشان می‌دهد؟

- (۱) سرزمین - حوزه - قسوغ - رستاک
- (۲) سرزمین - ولایت - شهرستان - قصبه
- (۳) ایالت - ولایت - بلوک - قصبه
- (۴) ایالت - استان - شهرستان - دهستان

« پاسخ »

گزینه ۳ پاسخ صحیح است. در زمان صفویه، افشاریه و زندیه، عناصر اصلی تقسیمات کشوری به ترتیب عبارت بود از: ایالت، ولایت، بلوک و قصبه.

۳۲- کدام عبارت «نظام اداری تقسیمات کشوری در ایران» را به درستی بیان می کند؟

- ۱) شهرستان، از به هم پیوستن چند بخش همجوار تشکیل شده و تابع تشکیلات مرکزی می باشد.
- ۲) استان، واحدی از تقسیمات کشوری در ایران است که توسط فرماندار اداره می شود و تابع تشکیلات مرکزی است.
- ۳) دهستان، توسط دهمدار اداره می شود و از به هم پیوستن چند بخش به وجود آمده است و تابع شهرستان است.
- ۴) بخش، از چندین مزرعه مکان، روستا و احیاناً شهر تشکیل شده است و تابع شهرستان می باشد.

« پاسخ »

گزینه ۴ پاسخ صحیح است. بخش واحدی از تقسیمات کشوری است که از به هم پیوستن چند دهستان هم جوار، شامل چندین مزرعه، مکان، روستا و احیاناً شهر تشکیل شده و از لحاظ نظام اداری تابع شهرستان می باشد.

۳۳- از هم به پیوستن «چند بخش همجوار» و «چند دهستان همجوار» به ترتیب کدام واحدها تشکیل می شود؟

- ۱) بخش - استان
- ۲) شهرستان - استان
- ۳) بخش - شهرستان
- ۴) شهرستان - بخش

« پاسخ »

گزینه ۴ پاسخ صحیح است. واحد شهرستان حاصل به هم پیوستن چند بخش همجوار و واحد بخش حاصل به هم پیوستن چند دهستان همجوار است.

۳۴- در مورد تاریخچه تقسیمات کشوری در ایران، کدام مورد صحیح است؟

- ۱) در نخستین مرحله ی زندگی، یک آبادی «ساتراپ» و یک آبادی بزرگ «ویس» نام گرفت.
- ۲) تقسیمات کشوری دوران هخامنشی در دوران ساسانیان نیز ادامه داشت.
- ۳) در دوره ی افشاریان، کشور به واحدهایی تحت عنوان ایالت تقسیم بندی شد.
- ۴) در دوره ی قاجاریه ایران به چهار ایالت و دوازده ولایت تقسیم شد.

« پاسخ »

گزینه ۴ پاسخ صحیح است. با بررسی تاریخچه ی تقسیمات سیاسی ایران در پیش از اسلام و پس از اسلام می توان گفت که در دوره ی قاجاریه ایران به چهار ایالت و دوازده ولایت تقسیم شد. سایر گزینه ها یا نام حاکمیت جابه جا شده یا اسامی مناسب به کار نرفته است.

۳۵- کدام گزینه بیانگر علل تغییرات در تقسیمات کشوری در ایران، قلمداد می شود؟

- ۱) همگونی شرایط اجتماعی و فرهنگی
- ۲) عرضه خدمات مناسب تر به کمک تناسب بیشتر محیط
- ۳) برنامه ریزی دقیق تر برای تأمین نیازهای مردم
- ۴) براساس موقعیت مکان و زمان

« پاسخ »

گزینه ۴ پاسخ صحیح است. در تقسیمات کشوری، به منظور اداره بهتر کشور، عرضه خدمات مناسب تر و تأمین نیازهای مردم متناسب با موقعیت و زمان، کشور را به واحدهای کوچکتر تقسیم می کنند.

- ۳۶- کدام مورد با قانون تقسیمات کشوری در سال ۱۳۱۶، مطابقت دارد؟
- (۱) هر بخش، بزرگ‌تر از دهستان و کوچک‌تر از شهرستان است.
  - (۲) هر شهرستان، بزرگ‌تر از بخش و کوچک‌تر از دهستان است.
  - (۳) هر استان، کوچک‌تر از بخش و بزرگ‌تر از شهرستان است.
  - (۴) هر دهستان، کوچک‌تر از قصبه و بزرگ‌تر از بخش است.

« پاسخ »

گزینه ۱ پاسخ صحیح است. در قانون تقسیمات کشوری در سال ۱۳۱۶، هر استان به چند شهرستان، هر شهرستان به چند بخش، هر بخش به چند دهستان و هر دهستان به چند قصبه تقسیم می‌شود.

- ۳۷- براساس قانون تقسیمات کشوری در ایران، استان‌های کشور به ترتیب در سال ۱۳۱۶ و ۱۳۵۷ به چه تعدادی طبقه‌بندی شده است؟
- (۱) ۱۰ و ۲۵ (۲) ۱۰ و ۲۴ (۳) ۱۶ و ۲۴ (۴) ۱۶ و ۲۵

« پاسخ »

گزینه ۲ پاسخ صحیح است. براساس قانون تقسیمات کشوری، ایران در سال ۱۳۱۶ به ۱۰ استان در سال ۱۳۵۷ به ۲۴ استان تقسیم شد.

- ۳۸- براساس تقسیمات کشوری در زمان ساسانیان، به ترتیب دهستان و شهرستان به چه نام‌هایی مشهور بودند؟
- (۱) قصبه - بلوک (۲) تسوک - رستاک (۳) بلوک - قصبه (۴) رستاک - تسوج

« پاسخ »

گزینه ۴ پاسخ صحیح است. در زمان ساسانیان، دهستان به «رستاک» و شهرستان به «تسوک یا تسوج» مشهور بود.

۳۹- با توجه به جدول، به ترتیب تعداد بخش، ایالت، ولایت و استان در کدام دوره‌ها به درستی بیان شده است؟

دوره	تعداد
هخامنشیان	۲۴ شهر
سلوکیان	۷۲ بخش
عباسیان	۳۱ ایالت
قاجار	۱۲ ولایت
ایران ۱۳۱۶	۱۰ استان

(۲)

دوره	تعداد
هخامنشیان	۳۰ شهر
سلوکیان	۷۲ بخش
عباسیان	۳۲ ایالت
قاجار	۱۴ ولایت
ایران ۱۳۱۶	۱۲ استان

(۱)

دوره	تعداد
هخامنشیان	۲۴ شهر
سلوکیان	۷۰ بخش
عباسیان	۳۲ ایالت
قاجار	۱۲ ولایت
ایران ۱۳۱۶	۱۲ استان

(۴)

دوره	تعداد
هخامنشیان	۳۰ شهر
سلوکیان	۷۲ بخش
عباسیان	۳۱ ایالت
قاجار	۱۲ ولایت
ایران ۱۳۱۶	۱۰ استان

(۳)

« پاسخ »

گزینه ۳ پاسخ صحیح است.

دوره	تعداد
هخامنشیان	۳۰ شهر
سلوکیان	۷۲ بخش
عباسیان	۳۱ ایالت
قاجار	۱۲ ولایت
ایران ۱۳۱۶	۱۰ استان

(۴) مادها

۴۰- در زمان کدام سلسله‌ی ایران باستان کشور به ۷۲ بخش تقسیم شد؟  
 (۱) اشکانیان (۲) سلوکیان (۳) هخامنشیان (۴) مادها

« پاسخ »

گزینه ۲ پاسخ صحیح است. در دوره‌ی سلوکیان کشور به ۷۲ بخش تقسیم شد.

- ۴۱- در دوره‌ی کدام سلسله‌های ایرانی تقسیمات کشوری شامل ایالت، ولایت، بلوک و قصبه بود؟  
 (۱) خوارزمشاهیان، سلجوقیان، قاجار، پهلوی  
 (۲) سلجوقیان، تیموریان، صفویان، زندیه  
 (۳) افشاریه، صفویه، زندیه، پهلوی  
 (۴) صفویه، افشاریه، زندیه، قاجاریه

« پاسخ »

گزینه ۴ پاسخ صحیح است. در دوره‌ی صفویه، افشاریه، زندیه و قاجاریه عناصر اصلی تقسیمات کشوری به ترتیب عبارت بودند از: ایالت، ولایت، بلوک و قصبه.

- ۴۲- ایران در سال ۱۳۱۶ به ..... استان تقسیم شد که نام هر استان یک ..... بود و کشور به ..... شهرستان تقسیم شده بود.

(۱) ۲۰ - شهر - ۴۰ (۲) ۱۰ - شهر - ۴۹ (۳) ۱۰ - عدد - ۴۹ (۴) ۲۰ - عدد - ۴۰

« پاسخ »

گزینه ۳ پاسخ صحیح است. در سال ۱۳۱۶ با تصویب قانون تقسیمات کشوری ایران دارای ده استان که نام هر استان یک عدد بود و ۴۹ شهرستان تقسیم شد.

- ۴۳- کدام گزینه تقسیمات ایران در دوره‌ی ساسانی را به درستی بیان می‌کند؟

(۱) سرزمین - خوره - بلوک - رستاک  
 (۲) ایالت - استان - بلوک - دهستان  
 (۳) سرزمین - خوره - تسوک - رستاک  
 (۴) ایالت - ولایت - بلوک - قصبه

« پاسخ »

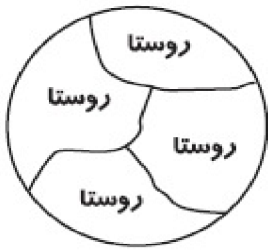
گزینه ۳ پاسخ صحیح است. در دوره‌ی ساسانیان کشور به سرزمین (ایالت)، خوره (استان)، تسوک یا تسوج (شهرستان) و رستاک (دهستان) تقسیم شده بود.

- ۴۴- کدام گزینه، چهار ایالت ایران در دوره‌ی قاجار را نشان می‌دهد؟

(الف) خراسان و سیستان - آذربایجان  
 (ب) ری و تهران - طبرستان و گرگان  
 (ج) خوزستان و شوش - اصفهان و مرکزی  
 (د) کرمان و بلوچستان - فارس و بنادر  
 (۱) الف و د (۲) ب و ج (۳) الف و ب (۴) ب و د

« پاسخ »

گزینه ۱ پاسخ صحیح است. در دوره‌ی قاجاریه ایران به چهار ایالت و دوازده ولایت تقسیم شد. این ایالت‌ها عبارت بودند از: آذربایجان، کرمان و بلوچستان، فارس و بنادر، خراسان و سیستان.



- ۴۵- کدام گزینه در رابطه با شکل مقابل درست است؟
- ۱) کوچک‌ترین واحد تقسیمات کشوری است؟
  - ۲) توسط فرماندار اداره می‌شود.
  - ۳) دومین تقسیم‌بندی کشور از نظر وسعت است.
  - ۴) از لحاظ اداری، تابع شهرستان است.

## « پاسخ »

گزینه ۱ پاسخ صحیح است.

• شکل مورد سؤال، بیانگر «دهستان» است.

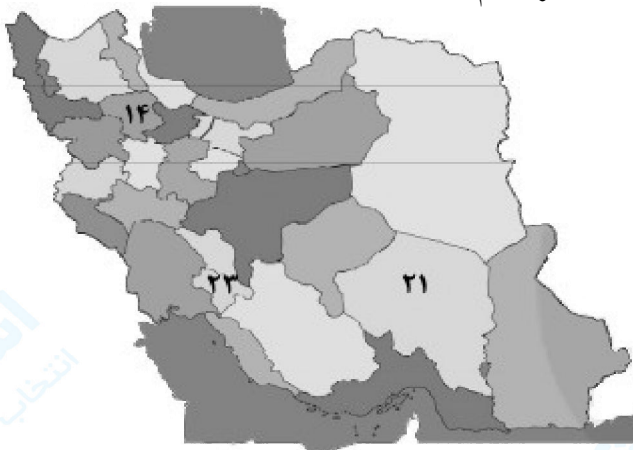
• بررسی سایر گزینه‌ها:

۲) مربوط به شهرستان

۳) وسعت تقسیمات کشوری از بزرگ به کوچک، «شهرستان» دومین می‌باشد و از کوچک به بزرگ، «بخش» دومین می‌باشد.

۴) مربوط به بخش

۴۶- با توجه به نقشه ایران، هریک از شماره‌های «۱۴»، «۲۱» و «۲۳» بیانگر کدام استان است؟



۱) همدان - یزد - لرستان

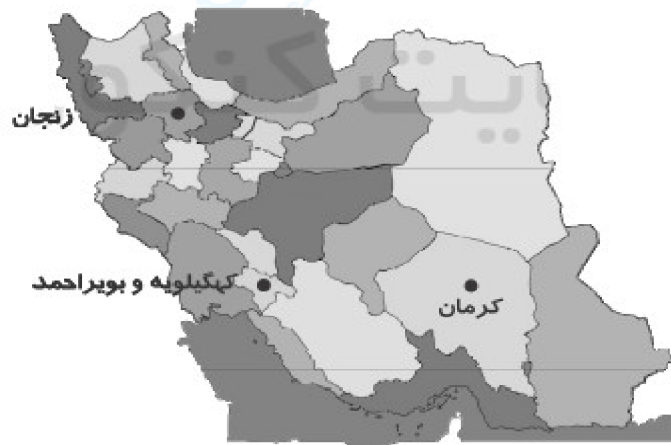
۲) زنجان - کرمان - کهگیلویه و بویراحمد

۳) قم - فارس - کرمانشاه

۴) قزوین - چهارمحال و بختیاری - خوزستان

## « پاسخ »

گزینه ۲ پاسخ صحیح است.





۴۷- در رابطه با تقسیمات کشوری، در کدام گزینه جملات «درست» و «نادرست» به ترتیب عنوان شده است؟

- (۱) دهستان کوچک‌ترین واحد تقسیمات کشوری است - دهستان تابع شهرستان است.
- (۲) بخش از به هم پیوستن چند دهستان به وجود می‌آید - شهرستان تابع استان است.
- (۳) شهر توسط فرماندار اداره می‌شود - بخش از شهر کوچک‌تر است.
- (۴) محدوده تقسیمات کشوری متغیر است - بخش از دهستان بزرگ‌تر است.

« پاسخ »

گزینه ۱ پاسخ صحیح است.

• بررسی گزینه‌ها:

- (۱) درست - نادرست (دهستان تابع بخش است).
- (۲) درست - درست
- (۳) نادرست (شهرستان توسط فرماندار اداره می‌شود). - درست
- (۴) درست - درست

۴۸- نقشه مقابل نشانگر تقسیمات کشوری در کدام دوره است؟



(۱) اشکانیان

(۲) ساسانیان

(۳) هخامنشیان

(۴) صفویه

« پاسخ »

گزینه ۴ پاسخ صحیح است.

۴۹- کدام گزینه تقسیمات کشوری در دوره افشاریه را «به ترتیب» به درستی نشان می‌دهد؟

- (۱) ولایت - ایالت - بلوک - قصبه
- (۲) ولایت - ایالت - قصبه - بلوک
- (۳) ایالت - ولایت - بلوک - قصبه
- (۴) بلوک - ایالت - ولایت - قصبه

« پاسخ »

گزینه ۳ پاسخ صحیح است.

۵۰- در کدام حکومت‌ها، تقسیمات کشوری «یکسانی» وجود دارد؟

- (۱) هخامنشیان و اشکانیان
- (۲) عباسیان و صفویه
- (۳) پارت‌ها و افشاریه
- (۴) سلوکیان و زندیه

« پاسخ »

گزینه ۱ پاسخ صحیح است. قسمت‌های حکومت هخامنشی در حکومت اشکانیان یا پارت‌ها ادامه داشت.

۵۱- تقسیم‌بندی کشور به ۷۲ بخش از ویژگی‌های کدام حکومت است؟  
 (۱) هخامنشیان (۲) اشکانیان (۳) عباسیان (۴) سلوکیان

« پاسخ »

گزینه ۴ پاسخ صحیح است.

۵۲- به کوچک‌ترین بخش تقسیمات کشوری در زمان صفویان چه می‌گفتند؟  
 (۱) رستاک (۲) دهستان (۳) قصبه (۴) بلوک

« پاسخ »

گزینه ۳ پاسخ صحیح است.

۵۳- با در نظر گرفتن تقسیمات کشوری به‌شکل امروزی آن و تقسیمات کشوری در عصر «ساسانیان»، مورد «الف» بیانگر چیست؟



(۱) رستاک

(۲) ایالت

(۳) خوره

(۴) تسوج

« پاسخ »

گزینه ۱ پاسخ صحیح است. تقسیم‌بندی دوره ساسانیان: سرزمین (ایالت)، خوره (استان)، تسوج یا تسوج (شهرستان) و رستاک (دهستان)



۵۴- شکل مقابل بیانگر کدام تقسیمات کشوری است؟

(۱) شهرستان

(۲) شهر

(۳) استان

(۴) بخش

« پاسخ »

گزینه ۴ پاسخ صحیح است. شکل مورد سؤال «بخش» را نشان می‌دهد، چراکه به هم پیوستن چند «دهستان» را نشان می‌دهد.

۵۵- استان‌های اضافه‌شده نسبت به تقسیمات کشوری سال ۱۳۷۲ کدام است؟

(۱) البرز - گلستان - زنجان

(۲) قم - خراسان جنوبی - سمنان

(۳) اردبیل - البرز - قزوین

(۴) ایلام - خراسان رضوی - گلستان

« پاسخ »

گزینه ۳ پاسخ صحیح است. در سال ۱۳۷۲ ه.ش. طرح اولین استان جدید با نام اردبیل به تصویب مجلس رسید و پس از آن استان‌های قم، قزوین، گلستان، خراسان‌های شمالی، رضوی، جنوبی و البرز اضافه شدند.